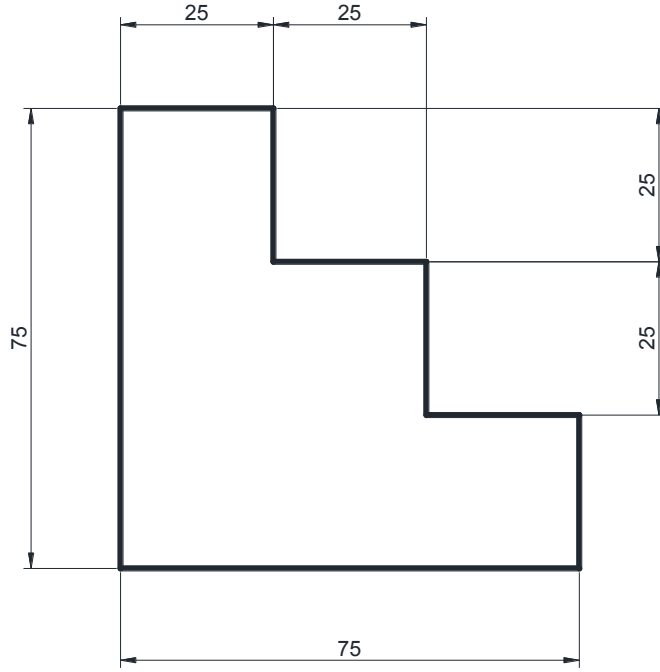


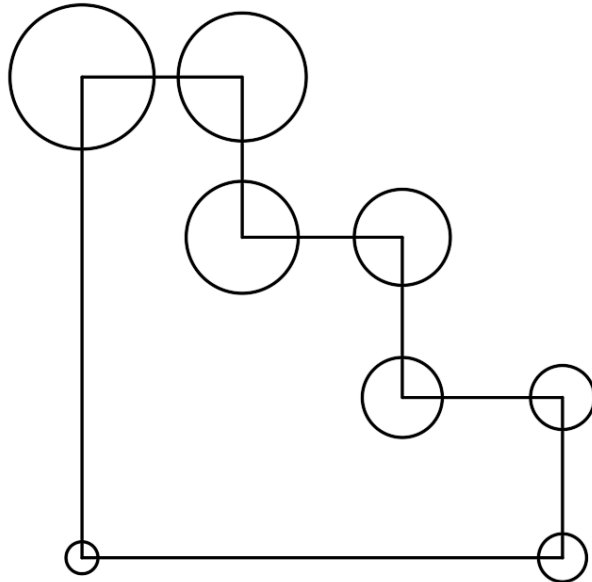
## Bilgisayar Destekli Tasarım

### Hafta 5 – İşlemler Listesi

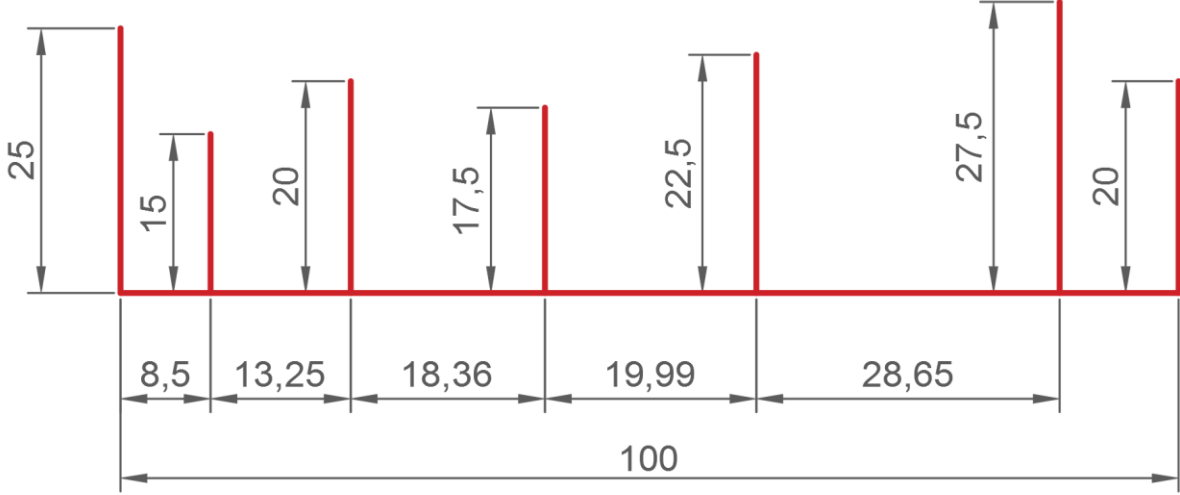
1. <http://web.bilecik.edu.tr/bulent-turan/> adresinde Hafta 1'in içindeki uygulamaları indirerek 1. Uygulamayı açınız.
2. AutoCAD'de çalışma alanını LIMITS konutu ile 297,210 olarak belirleyiniz.
3. **Grid** değerini 5 mm olarak ayarlayınız.
4. **Snap** değerini 5 mm olarak ayarlayınız.
5. Aşağıdaki çizimi verilen ölçülere göre DYNAMIC INPUT (F12) açık olarak sadece Mouse kullanarak çiziniz. Eğik olan (20,20 noktasından başlayınız)



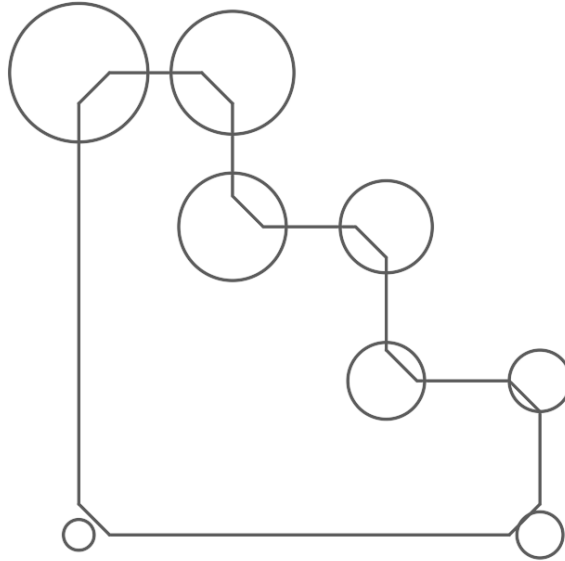
6. Beşinci maddede çizdiğiniz şeklin sol alt köşesinden başlayarak sırasıyla çapı 5mm, 7,5mm, 10mm, 12,5mm, 15mm, 17,5mm, 20mm, 22,5 mm olan daireler çiziniz. (20,20 noktasından başlayınız)



7. Aşağıda verilen çizimi Object Snap (OSNAP) Tracking (F11) yardımı ile çizin. (Değerler bilinçli olarak küsuratlı verilmiştir. Lütfen dikey çizgilerde dik çizim için gereken yardımcı aracı açınız. SNAP değerini işinize yarayacak şekilde kendiniz belirleyiniz.)



8. Beşinci adımda verilen şeklin bütün köşelerine her iki kenar mesafesi de 5mm olan pah kırınız.



9. Yaptığını işlemi geri alarak şeklin bütün köşelerine yarı çapı 5mm olan yay çizin.
10. Size bu hafta derste öğretilen **OFFSET** komutu ile ilgili çizimleri çizin.
11. Size bu hafta derste öğretilen **RECTANGLE** komutu ile ilgili dikdörtgenleri çizin.
12. Size bu hafta derste öğretilen düzenleme komutlarında **TRIM** ve **EXTEND** komutlarını **Hafta 1 Uygulama 1** çizim dosyasındaki sol taraftaki çizimde çalışınız.